

compito di geografia – la popolazione

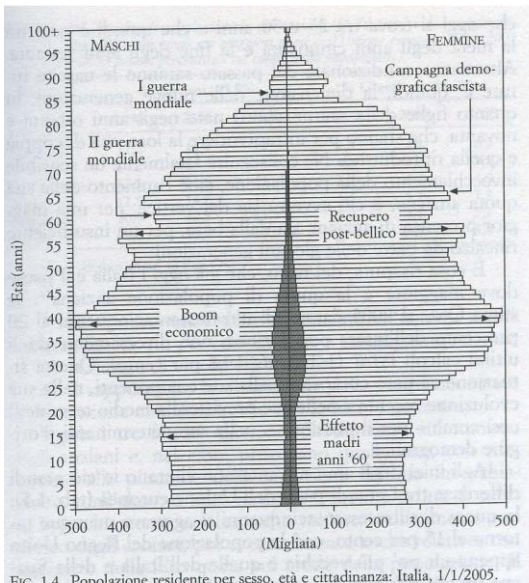


Fig. 1.4 Popolazione residente per sesso, età e cittadinanza: Italia, 1/1/2005.

1) scrivi una didascalia che spieghi brevemente il contenuto e il significato di questa figura

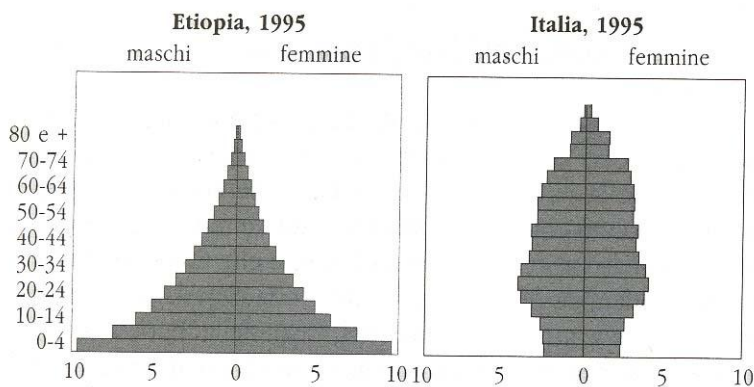
.....

.....

.....

.....

2) osserva la figura e spiega quali cause determinano la differente forma delle piramidi



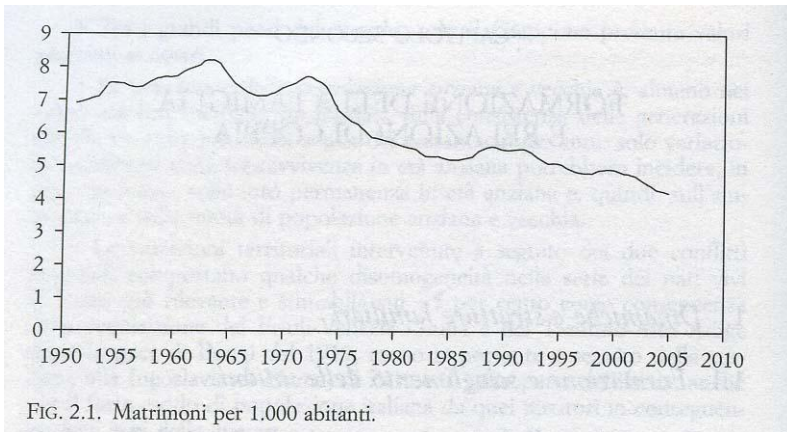
.....

.....

.....

.....

compito di geografia – la popolazione



3) quali fattori sociali e culturali possono aver influenzato l'andamento della linea rappresentata nella tabella?


.....

.....

.....

.....

4) disegna un grafico che rappresenti la "transizione demografica" in un determinato paese spiegando cosa ha determinato le sue fasi



.....

.....

.....

.....

5) cosa misura l'indice di Gini?

nome e cognome classe 2e data
7/11/2007

.....
.....
.....
.....

6) quali variabili incidono sul saldo demografico? come si calcolano gli indici di natalità e di mortalità?

.....
.....
.....
.....

7) quali squilibri ambientali sono collegati con la crescita della popolazione? cosa postula la teoria dell'*impronta ecologica* in relazione alla capacità di popolamento della terra?

.....
.....
.....
.....

8) in quanti modi e con quali rappresentazioni grafiche si può classificare la *popolazione* di una seconda liceo?

.....
.....
.....
.....

9) perché l'urbanizzazione viene definita un "fenomeno preoccupante"? Perché l'aumento della popolazione urbana non può essere considerato sempre un indice di sviluppo?

compito di geografia – la popolazione

.....

.....

.....

.....

10) che differenza c'è tra metropoli e megalopoli? Perché è difficile misurare la popolazione di una megalopoli?

.....

.....

.....

.....

griglia di valutazione

1	
2	
3	
4	
5	

6	
7	
8	
9	
10	

voto