

Data..... Classe..... Cognome e nome.....

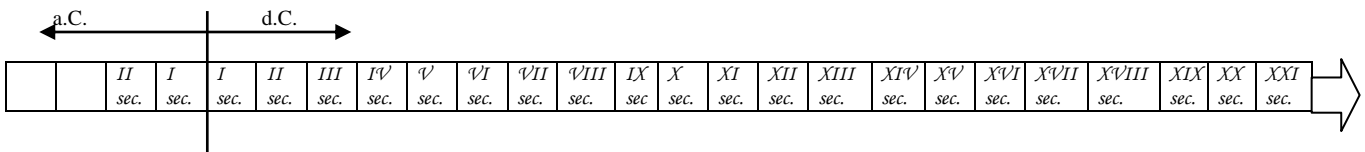
Verifica di Storia Medioevale
La Società feudale - Alto e Basso Medioevo

► Collocare nel tempo

1. Collega con una freccia ciascun fatto storico con il secolo in cui è accaduto. Colora quindi in rosso le caselle dei secoli che costituiscono il periodo dell'Alto Medioevo, in verde quelle dei secoli che costituiscono il periodo del Basso Medioevo.

a Anno 814 d.C. :
Morte di
Carlo Magno

b Anno 1492 d.C. :
Scoperta dell'America
Inizio dell'Età moderna



c Anno 1000
Inizio del
Basso Medioevo

d Anno 476 d.C.
Caduta dell'Impero
romano d'Occidente
Inizio dell'Alto Medioevo

► Causa/Effetto

2. Indica con una crocetta, nella colonna di sinistra, quali furono le cause di quella che gli storici chiamano "anarchia feudale" (dalla metà del IX sec. Alla metà del secolo successivo). Collega quindi l'anarchia feudale con la sua immediata conseguenza.

CAUSE		ANARCHIA FEUDALE
1.	Disgregazione in vari regni del Sacro Romano Impero	
2.	Ingerenza del papa nella politica dei discendenti di Carlo Magno	
3.	Lotte per la successione al trono di Carlo Magno	
4.	Perdita di autorità dei re sui loro vassalli	

CONSEGUENZE
a) rafforzamento dell'autorità centrale
b) scomparsa di ogni autorità centrale
c) rafforzamento dell'autorità del papa

► Conoscere i termini specifici

3. Con il termine FEUDALESIMO si indica:

- a) L'insieme dei rapporti sociali che si svilupparono in Europa durante l'Impero Romano.
- b) L'insieme delle abitudini di vita dei contadini in Europa durante il Medioevo.
- c) L'insieme dei rapporti sociali che si svilupparono in Europa nel Medioevo.

I seguenti termini riguardano il feudalesimo. Per ciascuno di essi scegli la definizione fra quelle sotto elencate, affiancando alla parola la lettera corrispondente.

1.Vassallo	
2. Omaggio	

3.Investitura	
4. Beneficio	

5.Feudo	
6.Signoria	

- A. Territorio concesso da un sovrano (o da un signore) come ricompensa a un vassallo.
- B. Esercizio del proprio dominio su altri uomini.
- C. Ricompensa (terra o altro bene) concessa dal signore a un suo vassallo, in cambio di servizi (in genere militari) resi o promessi
- D. Uomo di fiducia, sottoposto all'autorità di un signore.
- E. Cerimonia ufficiale con cui un sovrano o un grande feudatario concedeva una ricompensa a un suo vassallo.
- F. Atto di sottomissione di un vassallo a un sovrano o a un signore.

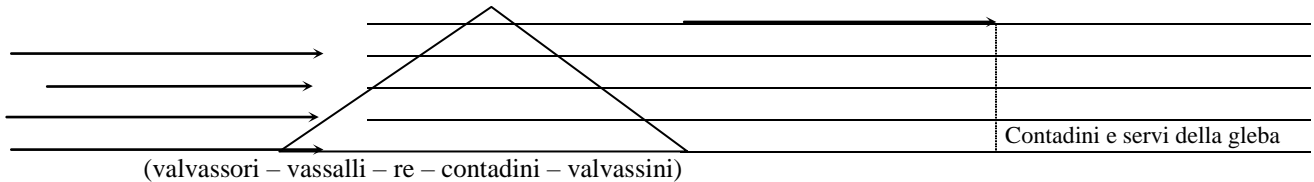
Associa ai vari personaggi la loro funzione o la loro condizione.

1. Missi dominici
2. Conti
3. Marchesi
4. Nobili
5. Duchi

- a) Governavano le terre di confine
- b) Signori dei feudi più estesi e importanti
- c) Signori e feudi minori, meno potenti dei duchi
- d) Funzionari del re incaricati di controllare l'operato dei vassalli
- e) Discendenti di antiche famiglie di senatori dell'impero romano o di guerrieri barbari conquistatori

► Conoscere l'ordinamento sociale

4. La società feudale era rigidamente gerarchica, cioè alcuni gruppi avevano potere su altri, i quali lo esercitavano su altri ancora, fino al gruppo più numeroso: i contadini e "servi della gleba". Indica la gerarchia su questa piramide:



► Causa/effetto

5. Con l'espressione "rivoluzione agricola" s'intende una profonda trasformazione avvenuta dopo l'anno Mille: grazie al miglioramento nell'agricoltura gli uomini videro migliorare la qualità della loro vita.

Tra i seguenti fenomeni, distingui le cause e le conseguenze della rivoluzione agricola:

- A.** nuove tecniche in agricoltura **B.** maggior produzione di cibo **C.** periodo di pace **D.** uso di nuovi strumenti (aratro pesante, collare a spalla) **E.** miglioramento delle condizioni di vita.

CAUSE	CONSEGUENZE

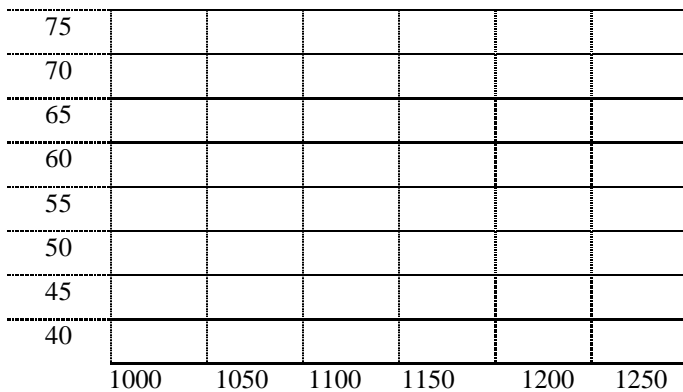
► Utilizzare e commentare dati

6. Alcuni studiosi hanno calcolato, con molta approssimazione, le cifre dell'aumento della popolazione europea tra il 1000 e il 1250.

Ne è risultata la tabella che vedi qui a fianco.

Servendoti di questi dati, realizza il grafico a barre che rappresenti visivamente il fenomeno. I numeri sulla linea verticale indicano i milioni di abitanti, quelli sulla linea orizzontale gli anni.

anno	milioni di abitanti
1000	42
1050	46
1100	48
1150	50
1200	61
1250	69



Commenta ora i dati con parole tue:

7. Aggiungi i termini fondamentali mancanti nei seguenti paragrafi.

1 Nell'843 i discendenti di(Carlo il Calvo, Lotario e Ludovico il Germanico) suddividono il in tre regni distinti. L'Europa vive un periodo storico molto travagliato, sia a causa delle reciproche rivalità di sovrani e signori feudali, sia per le feroci invasioni di Saraceni, e Ungari.

2 Nel sistema feudale, tipico del Medioevo, i sovrani concedono ai loro sudditi più potenti, in cambio dell'obbligo di fedeltà e di aiuto in guerra, il beneficio. Questo consiste in un territorio,, sul quale il beneficiario, o....., ha il diritto di imporre le..... di amministrare la giustizia.

3 La società feudale risulta divisa in tre ordini: coloro che pregano ^{(il}), coloro che combattono (.....) e coloro che lavorano (i contadini e i servi)

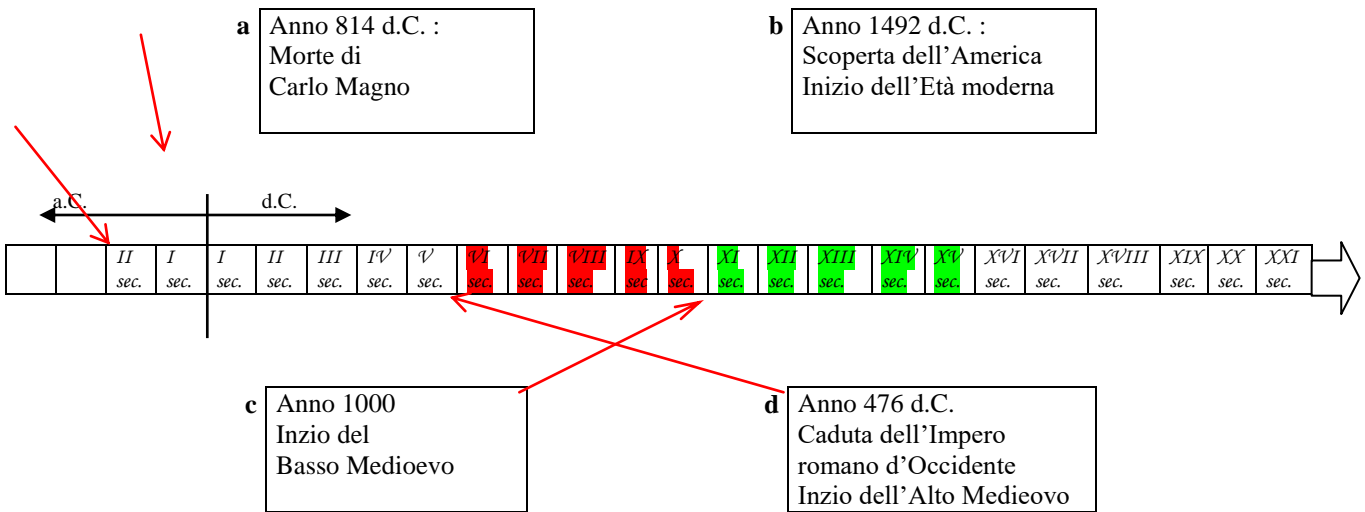
4 Dopo l'annola produzione agricola registra un notevole incremento grazie all'applicazione di nuovedi coltivazione. Le migliorate condizioni di vita determinano un considerevole aumento della..... nonché la rinascita della.....e dei commerci.

a..... Classe..... Cognome e nome.....

Verifica di Storia Medioevale
La Società feudale - Alto e Basso Medioevo

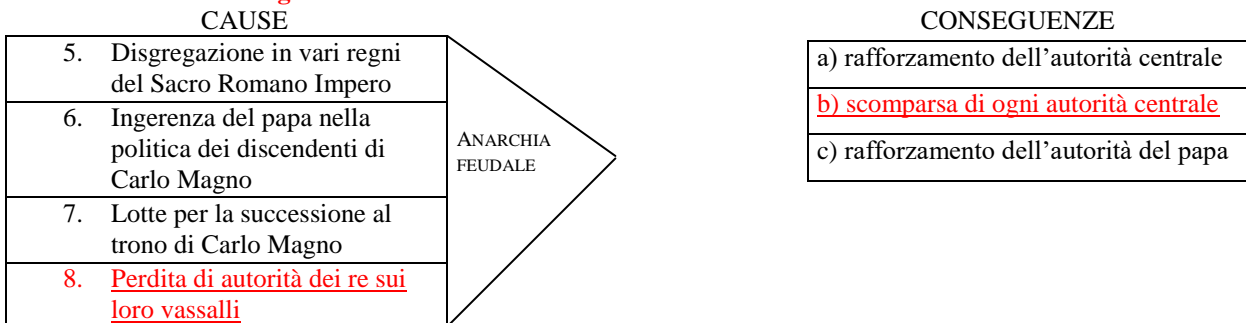
► Collocare nel tempo

1. Collega con una freccia ciascun fatto storico con il secolo in cui è accaduto. Colora quindi in rosso le caselle dei secoli che costituiscono il periodo dell'Alto Medioevo, in verde quelle dei secoli che costituiscono il periodo del Basso Medioevo.



► Causa/Effetto

2. Indica con una crocetta, nella colonna di sinistra, quali furono le cause di quella che gli storici chiamano "anarchia feudale" (dalla metà del IX sec. Alla metà del secolo successivo). Collega quindi l'anarchia feudale con la sua immediata conseguenza.



► Conoscere i termini specifici

3. Con il termine FEUDALESIMO si indica:

- d) L'insieme dei rapporti sociali che si svilupparono in Europa durante l'Impero Romano.
- e) L'insieme delle abitudini di vita dei contadini in Europa durante il Medioevo.
- f) L'insieme dei rapporti sociali che si svilupparono in Europa nel Medioevo.

I seguenti termini riguardano il feudalesimo. Per ciascuno di essi scegli la definizione fra quelle sotto elencate, affiancando alla parola la lettera corrispondente.

1.Vassallo	D	3.Investitura	E	5.Feudo	A
2. Omaggio	F	4. Beneficio	C	6.Signoria	B

- A.** Territorio concesso da un sovrano (o da un signore) come ricompensa a un vassallo.
- B.** Esercizio del proprio dominio su altri uomini.
- C.** Ricompensa (terra o altro bene) concessa dal signore a un suo vassallo, in cambio di servizi (in genere militari) resi o promessi
- D.** Uomo di fiducia, sottoposto all'autorità di un signore.
- E.** Cerimonia ufficiale con cui un sovrano o un grande feudatario concedeva una ricompensa a un suo vassallo.
- F.** Atto di sottomissione di un vassallo a un sovrano o a un signore.

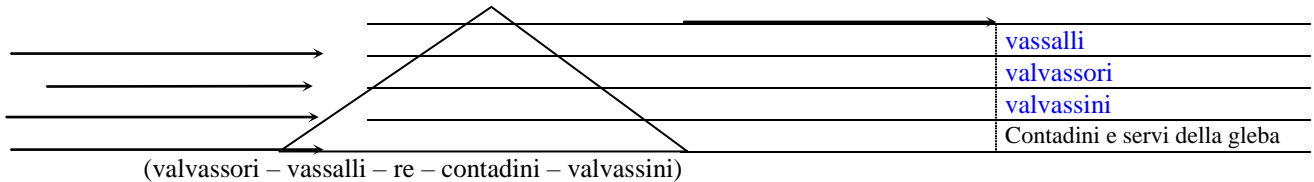
Associa ai vari personaggi la loro funzione o la loro condizione.

1.	Missi dominici	d
2.	Conti	c
3.	Marchesi	a
4.	Nobili	e
5.	Duchi	b

- a) Governavano le terre di confine
- b) Signori dei feudi più estesi e importanti
- c) Signori e feudi minori, meno potenti dei duchi
- d) Funzionari del re incaricati di controllare l'operato dei vassalli
- e) Discendenti di antiche famiglie di senatori dell'impero romano o di guerrieri barbari conquistatori

► Conoscere l'ordinamento sociale

4. La società feudale era rigidamente gerarchica, cioè alcuni gruppi avevano potere su altri, i quali lo esercitavano su altri ancora, fino al gruppo più numeroso: i contadini e "servi della gleba". Indica la gerarchia su questa piramide:



► Causa/effetto

5. Con l'espressione "rivoluzione agricola" s'intende una profonda trasformazione avvenuta dopo l'anno Mille: grazie al miglioramento nell'agricoltura gli uomini videro migliorare la qualità della loro vita.

Tra i seguenti fenomeni, distingui le cause e le conseguenze della rivoluzione agricola:

- A. nuove tecniche in agricoltura
- B. maggior produzione di cibo
- C. periodo di pace
- D. uso di nuovi strumenti (aratro pesante, collare a spalla)
- E. miglioramento delle condizioni di vita.

CAUSE	CONSEGUENZE
A D	B
C	E

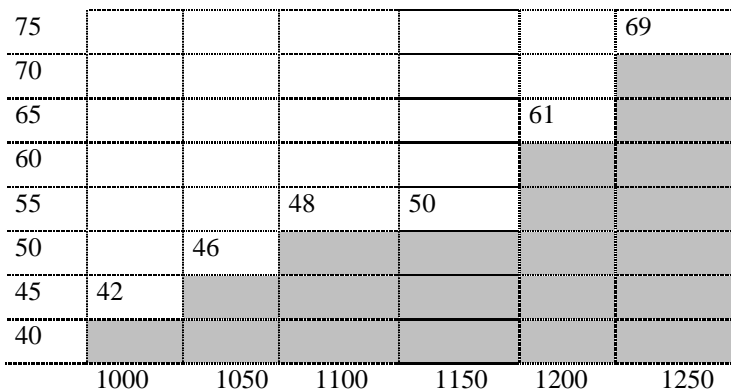
► Utilizzare e commentare dati

7. Alcuni studiosi hanno calcolato, con molta approssimazione, le cifre dell'aumento della popolazione europea tra il 1000 e il 1250.

Ne è risultata la tabella che vedi qui a fianco.

Servendoti di questi dati, realizza il grafico a barre che rappresenti visivamente il fenomeno. I numeri sulla linea verticale indicano i milioni di abitanti, quelli sulla linea orizzontale gli anni.

anno	milioni di abitanti
1000	42
1050	46
1100	48
1150	50
1200	61
1250	69



Commenta ora i dati con parole tue:

7. Aggiungi i termini fondamentali mancanti nei seguenti paragrafi.

1 Nell'843 i discendenti di **Carlo Magno** (Carlo il Calvo, Lotario e Ludovico il Germanico) suddividono il **Sacro Romano Impero** in tre regni distinti. L'Europa vive un periodo storico molto travagliato, sia a causa delle reciproche rivalità di sovrani e signori feudali, sia per le feroci invasioni di Saraceni, **Vichinghi** e Ungari.

2 Nel sistema feudale, tipico del Medioevo, i sovrani concedono ai loro sudditi più potenti, in cambio dell'obbligo di fedeltà e di aiuto in guerra, il beneficio. Questo consiste in un territorio, **il feudo**, sul quale il beneficiario, o **Vassallo**, ha il diritto di imporre le **gabelle/tasse** e di amministrare la giustizia.

3 La società feudale risulta divisa in tre ordini: coloro che pregano (**il clero**), coloro che combattono (**i nobili e cavalieri**) e coloro che lavorano (i contadini e i servi **della gleba**).

4 Dopo l'anno **Mille** la produzione agricola registra un notevole incremento grazie all'applicazione di nuove **tecniche** di coltivazione. Le migliorate condizioni di vita determinano un considerevole aumento della **popolazione**, nonché la rinascita della **vita cittadina/città** e dei commerci.